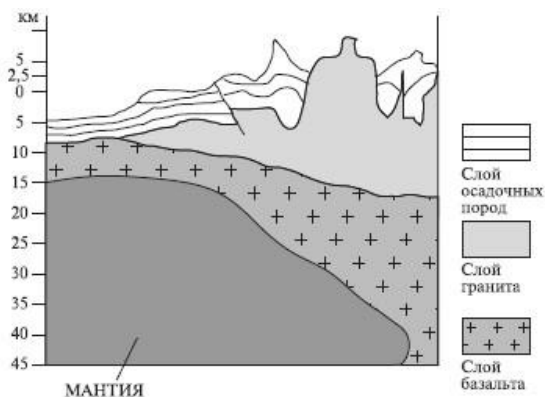


**КОНТРОЛЬНО-ИЗМЕРИТЕЛЬНЫЕ МАТЕРИАЛЫ**  
**по географии 7 класс**

**Литосфера и рельеф Земли»**

**1 вариант**

**1. На рисунке изображен тип земной коры:**    А) материковый    Б) океанический



**2. Мощность этого типа земной коры составляет:**

- А) 5-10 км
- Б) 35-70 км
- В) 70-150 км

**3. Какого слоя нет в Тихоокеанской плите?**

- А) гранитный    Б) базальтовый    В) осадочный

**4. На какие два материка распалась Пангея около 180 млн лет назад?**

- А) Антарктида и Лавразия    Б) Гондвана и Евразия
- В) Гондвана и Лавразия    Г) Лавразия и Тетис

**5. Как называются самые беспокойные подвижные участки земной коры, границы литосферных плит:**

- А) платформы    Б) сейсмические пояса    В) рельеф    Г) ложе океана

**6. Какая тектоническая структура лежит в основании равнин:**

- А) платформы    Б) сейсмические пояса
- В) рельеф    Г) Срединно-океанические хребты

**7. Где земная кора имеет наибольшую толщину?**

- А) на Западно-Сибирской равнине    б) на дне океана
- В) в Гималаях    г) в Амазонской низменности.

**8. Какие из перечисленных гор относятся к наиболее древним?**

- А) Скандинавские    б) Уральские    в) Гималаи    г) Анды.

**9. Выберите пример молодых гор (гор кайнозойской складчатости):**

- А) Уральские    Б) Гималаи    В) Большой Водораздельный хребет

**10. Приведите примеры районов Земли, где океаническая литосферная плита погружается под материковую литосферную плиту:**

- А) район Гималаев    Б) район Кавказа
- В) район Анд и Перуанского, Чилийского желобов

**11. Установите правильную последовательность во времени образования гор (от древних до молодых):**

- А) Кордильеры
- Б) Альпы
- В) Скандинавские горы

**12. В какой строке указана правильная последовательность геологических эр?**

- А) архейская — палеозойская — протерозойская — мезозойская — кайнозойская
- Б) протерозойская — палеозойская — мезозойская — архейская — кайнозойская
- В) архейская — протерозойская — палеозойская — мезозойская — кайнозойская
- Г) архейская — протерозойская — палеозойская — кайнозойская — мезозойская

**13. Часть Евразии расположена на литосферной плите:**

- А) Африканской                                      б) Индо-Австралийской
- В) Антарктической                                г) Тихоокеанской.

**14. Прочитайте текст.**

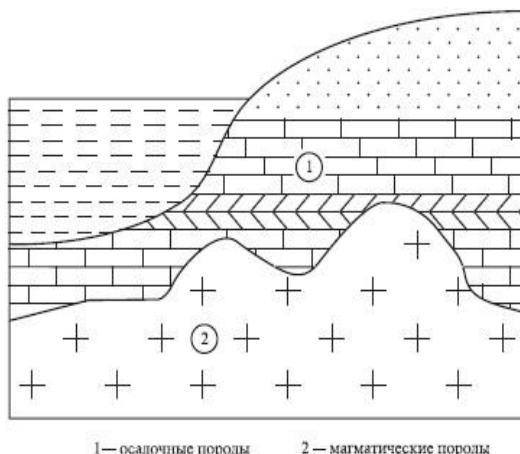
В марте 2011 г. сильнейшее землетрясение у берегов Японии породило гигантскую волну – цунами, которая смыла все с побережья страны, разрушила десятки населенных пунктов, погубив почти тридцать тысяч человек!

Почему в этом районе часто происходят землетрясения?

**Литосфера и рельеф Земли**

**2 вариант**

- 1. На рисунке изображен тип земной коры:** А) материковый      Б) океанический



**2. Мощность этого типа земной коры составляет:**

- А) 5-10 км
- Б) 35-70 км
- В) 70-150 км

**3. Кто выдвинул гипотезу дрейфа материков ?**

- А) М.В. Ломоносов      Б) А. Вегенер      В) Аристотель      Г) О.Ю. Шмидт

**4. Где земная кора имеет наименьшую толщину?**

- А) на Западно-Сибирской равнине      б) на дне океана
- В) на Кавказе                                      г) в Амазонской низменности.

**5. Сколько крупных литосферных плит выделяют на земном шаре?**

- А) 5      б) 7      в) 9      г) 12

**6. Как называются древнейшие относительно устойчивые участки литосферных плит?**

- А) платформы      Б) сейсмические пояса
- В) рельеф      Г) Срединно-океанические хребты

**7. Назовите единый древний материк, который существовал на Земле много миллионов лет назад:**

- А) Лавразия      Б) Пангея      В) Евразия      Г) Гондвана

**8. Какая тектоническая структура лежит в основании горных систем:**

- А) складчатые пояса      Б) платформы      В) котловины      Г) рельеф

**9. Выберите пример древних гор (герцинской складчатости):**

- А) Кордильеры      Б) Анды      В) Уральские      Г) Тянь-Шань

**10. Где происходит «рождение» новой земной коры, расхождение литосферных плит?**

- А) в районах срединно-океанических хребтов
- Б) в районах столкновения лит. плит
- В) в центральных частях плит литосферы
- Г) в горах

**11. Установите правильную последовательность во времени образования гор (от древних до молодых):**

- А) Гималаи
- Б) Уральские горы
- В) Кордильеры

**12. В какой строке указана правильная последовательность эпох складчатости?**

- А) альпийская — каледонская — герцинская — мезозойская — байкальская
- Б) каледонская — альпийская — мезозойская — байкальская — герцинская
- В) байкальская — каледонская — герцинская — мезозойская — альпийская
- Г) мезозойская — байкальская — герцинская — альпийская — каледонская

**13. Сейсмические пояса Земли образуются:**

- А) на границах столкновения литосферных плит;
- Б) на границах раздвижения и разрыва литосферных плит;
- В) в районах скольжения литосферных плит параллельно друг другу;
- Г) все варианты правильны.

**14. Прочитайте текст.**

*21 мая 1960 года в городе Консепсьоне, находящимся на территории государства Чили, произошло землетрясение, за которым последовала серия подземных толчков. Рухнули здания, под обломками которых погибли тысячи людей.*

Почему в этом районе часто происходят землетрясения?

## «Южные материки»

### 1 вариант

**1. Самый влажный и самый зеленый материк на земном шаре:**

- А) Африка
- Б) Южная Америка
- В) Австралия
- Г) Евразия

**2. Материк, на котором нет действующих вулканов и землетрясений:**

- А) Австралия
- Б) Африка
- В) Антарктида
- Г) Южная Америка

**3. Мыс Альмади и мыс Рас-Хафун – это крайние точки:**

- А) Австралии
- Б) Антарктиды
- В) Африки
- Г) Южной Америки

**4. Этот материк расположен во всех четырех полушариях:**

- А) Австралия
- Б) Антарктида
- В) Африка
- Г) Южная Америка

**5. Самый сухой материк:**

- А) Африка
- Б) Южная Америка
- В) Австралия
- Г) Антарктида

**6. Река, дважды пересекающая экватор:**

- А) Нигер
- Б) Амазонка
- В) Конго
- Г) Ориноко
- Д) Парана

**7. Самое крупное высокогорное озеро мира:**

А) озеро Титикака      Б) озеро Чад      В) озеро Виктория      Г) озеро Эйр

**8. Самый жаркий материк:**

А) Евразия      Б) Австралия      В) Африка      Г) Антарктида      Д) Южная Америка

**9. Северную и Южную Америку разделяет:**

А) Гибралтарский пролив      Б) Суэцкий перешеек  
В) Средиземное море      Г) Панамский канал

**10. Самый большой остров у берегов Африки:**

А) Гренландия      Б) Огненная Земля      В) Мадагаскар      Г) Тасмания

**11. Из европейских мореплавателей первым обогнул Африку с юга:**

А) Ф. Магеллан      Б) Васко да Гама      В) Х. Колумб      Г) А. Гумбольдт      Д) Дж. Кук

**12. Самая сухая область Африки:**

А) джунгли      Б) саванны      В) Сахара      Г) горы Африки      Д) Мадагаскар

**13. Часть Австралии, где встречаются современные ледники:**

А) северная      Б) южная      В) восточная      Г) в Австралии нет ледников

**14. Холодное течение на юго-западе от Африки формирует:**

А) пустыню Намиб      Б) Эфиопское нагорье      В) пустыню Калахари      Г) пустыню Сахара

**15. Почему все глубокие озера расположены в Восточной Африке?**

А) т.к. много котловин от потухших вулканов  
Б) здесь проходит зона разломов в земной коре.  
В) в Африке нет глубоководных озер  
Г) т.к. большое количество осадков.

**16. Самая длинная река Африки:**

А) Конго      Б) Амазонка      В) Нигер      Г) Нил

**17. Самое глубокое озеро Африки:**

А) Виктория      Б) Чад      В) Эйр      Г) Танганьика

**18. Самое крупное озеро Африки:**

А) Виктория      Б) Чад      В) Эри      Г) Танганьика      Д) Ньяса

**19. Самые маленькие жители экваториальных лесов Африки (рост 150 см)**

А) Нилоты      Б) Пигмеи      В) Папуасы      Г) Эфиопы

**20. Сеть временно пересыхающих рек в Австралии:**

А) скрэб      Б) крики      В) вади      Г) шельф

**21. Наибольшую площадь Австралии занимают:**

А) Степи      Б) Леса      В) Саванна      Г) Пустыни и полупустыни

**22. Заросли сухих кустарников в Австралии называют:**

А) вади                      Б) кебрачо                      В) скрэб                      Г) сельва

**23. Австралийский медведь - коала питается:**

А) рыбой              Б) молодыми листьями и побегами эвкалипта              В) насекомыми              Г) мясом

**24. Эндемик Австралии:**

А) ехидна              Б) гиена              В) заяц              Г) кролик

**25. Южную Америку открыл...**

А) Х. Колумб              Б) А. Веспуччи              В) Дж. Кук              Г) А. Гумбольдт

**26. Береговая пустыня, расположенная у подножия Анд?**

А) Намиб              Б) Виктория              В) Сахара              Г) Атакама              Д) Калахари

**27. Самая большая птица Анд:**

А) Кондор              Б) Фламинго              В) Страус              Г) Какаду

**28. Самое большое государство Южной Америки:**

А) Боливия              Б) Чили              В) Венесуэла              Г) Аргентина              Д) Бразилия

**29. 90% населения Бразилии говорит на языке:**

А) Испанском              Б) Бразильском              В) Латинском              Г) Португальском              Д) Английском

**30. Метисы – это потомки от:**

А) браков индейцев с африканцами              Б) браков европейцев с индейцами;  
В) браков европейцев с африканцами              Г) европейских переселенцев

## Южные материка

### 2 вариант

**1. Ее считают прародиной человека:**

А) Австралия;              Б) Антарктида;              в) Африка;              г) Южная Америка.

**2. 75% видов растений этого материка являются эндемиками:**

А) Африка              Б) Австралия              В) Антарктида              Г) Южная Америка

**3. В сухое время года это озеро распадается на мелкие водоемы, высохшие участки покрываются коркой соли:**

А) озеро Титикака              Б) озеро Ньяса              В) озеро Виктория              Г) озеро Эйр

**4. Самый высокий водопад на земном шаре:**

А) Ниагарский              Б) Виктория              В) Анхель              Г) Игуасу

**5. Атакама - это ...**

А) Пустыня              Б) Природная зона              В) Животное              Г) Река              Д) Птица

- 6. В какой части Африки проходит самый крупный на суше разлом земной коры?**  
А) в северной      Б) в западной      В) в восточной      Г) в центральной      Д) в южной
- 7. Сколько океанов омывает Африку?**  
А) 1      Б) 2      В) 3      Г) 4
- 8. К бассейну какого океана относится большинство рек Африки?**  
А) Атлантическому      Б) Индийскому  
В) Тихоокеанскому      Г) Северному Ледовитому
- 9. Самая многоводная река Африки:**  
А) Конго      Б) Амазонка      В) Нигер      Г) Нил      Д) Лимпопо
- 10. Самое большое по площади озеро Африки:**  
А) Виктория      Б) Чад      В) Ньяса      Г) Танганьика
- 11. В какой природной зоне Африки обитает самое крупное сухопутное животное - слон?**  
А) экваториальные влажные леса      Б) саванны  
В) тропические пустыни и полупустыни      Г) субтропические леса.
- 12. Экваториальные леса Африки называются:**  
А) пампа      Б) сельва      В) гилея      Г) парамос
- 13. Низкорослые народы мира, живущие в Африке:**  
А) бушмены      Б) берберы      В) пигмеи      Г) банту      Д) эфиопы.
- 14. Часть Австралии, где существуют вулканы:**  
А) северная      Б) южная      В) восточная      Г) западная      Д) в Австралии нет вулканов
- 15. Климат, который преобладает в Австралии:**  
А) влажный экваториальный      Б) сухой тропический  
В) влажный тропический      Г) сухой экваториальный
- 16. В Австралии временные водотоки (пересыхающие реки) называют:**  
А) вади      Б) скрэб      В) крик      Г) ручей
- 17. Природные зоны, занимающие большую часть территории Австралии:**  
А) влажные экваториальные леса и саванны  
Б) тропические влажные леса и пустыни.  
В) саванны, тропические пустыни и полупустыни  
Г) пустыни и полупустыни умеренного пояса.
- 18. Скрэбом в Австралии называют**  
А) сухие русла      Б) австралийские джунгли  
В) заросли сухих кустарников      Г) сухие впадины
- 19. Большинство населения Австралии составляют:**  
А) англо-австралийцы      Б) австрало-аборигены



а) Аконкагуа б) Косцюшко в) Орисаба г) Мак-Кинли д) Килиманджаро.

**4. Какой из указанных полуостровов самый северный:**

а) Юкатан; б) Калифорния; в) Аляска; г) Флорида.

**5. На равнинах северной части Северной Америки много невысоких холмов с плоскими вершинами, валунов, озёр, потому, что:**

- а) здесь располагаются древние разрушенные горы;
- б) эта территория сложена речными наносами;
- в) эта территория подвергалась древним оледенениям;
- г) эта территория сложена вулканическими породами.

**6. В осадочных породах на побережье Мексиканского залива находятся месторождения:**

а) железной руды; б) нефти и газа; в) урана; г) золота

**7. К коренному населению Северной Америки относятся:**

а) индейцы б) индейцы и эскимосы в) индейцы, эскимосы и негры

**8. Самая длинная река Северной Америки:**

а) Ниагара; б) Миссисипи; в) Макензи; г) Колумбия.

**9. Мхи, лишайники, кустарнички, карликовые берёзы и ивы, олени карibu – характерные представители органического мира:**

а) тундры; б) тайги; в) широколиственных лесов; г) смешанных лесов.

**Задание 2. Подберите пару: термины – понятия.**

Понятия:

- 1) Леса умеренного пояса с преобладанием хвойных деревьев.
- 2) Ветры ураганной силы, возникающие на равнинах Северной Америки при встрече над ними арктических и тропических воздушных масс.
- 3) Жилище эскимосов, сделанное из больших и плотных снежных кирпичей
- 4) Бурый медведь с Аляски
- 5) Плащ, накидка мексиканских крестьян

Термины:

- А) торнадо
- Б) иглу
- В) кадьяк
- Г) пончо
- Д) тайга

**Задание 3. Отметьте правильные высказывания знаком «+», неправильные знаком «-»**

- 1. У берегов Северной Америки находится крупнейший остров планеты
- 2. В горной системе Кордильер отсутствуют действующие вулканы
- 3. Для западных склонов Кордильер характерен умеренный морской климат
- 4. Группу Великих Американских озер образуют четыре озера: Верхнее, Мичиган, Гурон и Онтарио
- 5. Секвойи — самые большие деревья нашей планеты
- 6. Человек переселился на Северо-Американский материк из Южной Америки
- 7. Центральная Америка является частью Латинской Америки
- 8. Мексика — крупнейшая страна Северной Америки

**Задание 4. Вставьте пропущенную географическую информацию:**

- 1. а) Коренные жители Северной Америки - \_\_\_\_\_.
- б) Самая большая страна Северной Америки - \_\_\_\_\_.
- в) Канаде два государственных языка – французский и \_\_\_\_\_.

**2. Определите, к каким странам материка Северная Америка имеют отношения слова:**

«Бродвей», «Диснейленд», «Статуя Свободы», «Кремниевая долина»: \_\_\_\_\_;

**Задание 5. Расположите указанные географические объекты от самого северного к самому южному:**

- 1) полуостров Флорида                      2) озеро Мичиган                      3) полуостров Лабрадор
- 4) полуостров Аляска                      5) озеро Виннипег

**Северная Америка**

**2 вариант**

**Задание 1. Выберите один или несколько ответов:**



**1. Крайняя южная точка материка:**

- а) мыс Сент- Чарльз                      б) мыс Марьято  
в) мыс Мерчисон                          г) мыс Принца Уэльского

**2. Северная Америка не омывается водами, какого океана?**

- а) Тихого    б) Индийского    в) Атлантического    г) Северного Ледовитого

**3. Какие из перечисленных водопадов располагаются в Северной Америке?**

- а) Виктория    б) Йосемит    в) Ниагарский    г) Ливингстона    д) Игуасу

**4. Какой из указанных полуостровов самый южный:**

- а) Аляска;    б) Калифорния;    в) Юкатан;    г) Лабрадор.

**5. В горах Кордильеры случаются землетрясения и извержения вулканов, потому что:**

- а) эти горы начинаются на океаническом дне и выходят на сушу;  
б) многие вершины покрыты снегами и ледниками;  
в) Кордильеры образовались на стыке двух литосферных плит, в полосе сжатия земной коры;  
г) Кордильеры пересечены долинами многочисленных рек.

**6. В предгорьях Аппалачей и в самих горах находятся месторождения:**

- а) фосфоритов и соды;                      б) нефти;  
в) железной руды и каменного угля;                      г) алмазов и золота

**7. К коренному населению Северной Америки относятся:**

- а) индейцы и негры    б) негры и эскимосы    в) эскимосы и индейцы

**8. Самый крупный остров:**

- а) Куба;    б) Гаити;    в) Гренландия; г) Баффинова Земля.

**9. Канадская рысь, бурый медведь, лось; бальзамическая пихта, американская лиственница, сосна – характерные представители:**

- а) арктической пустыни;    б) тундры;    в) тайги;    г) широколиственных лесов

**Задание 2. Подберите пару: термины – понятия.**

<u>Понятия:</u>	<u>Термины:</u>
1) Переходная полоса между лесами и степями Северной Америки	А) тундра
2) Безлесные пространства субарктического пояса, покрытые мхом, лишайником и кустарником	Б) вигвам
3) Жилище индейцев	В) каньон
4) Традиционный мужской головной убор Мексики	Г) прерия
5) Глубокая речная долина в горной местности	Д) сомбреро

**Задание 3. Отметьте правильные высказывания знаком «+», неправильные знаком «-»**

1. У берегов Северной Америки находится крупнейший остров планеты
2. В горной системе Кордильер отсутствуют действующие вулканы
3. В районе Великих Американских озер располагается одно из богатейших в мире месторождений железной руды
4. Группу Великих Американских озер образуют четыре озера: Верхнее, Мичиган, Гурон и Онтарио
5. Великий ледник пришел на территорию Северной Америки со стороны Гренландии
6. Человек переселился на Северо-Американский материк из Южной Америки
7. Столица Соединенных Штатов Америки — город Вашингтон
8. Мексика — крупнейшая страна Северной Америки

**Задание 4. Вставьте пропущенную географическую информацию:**

1. а) Первыми европейцами, открывшими южные территории материка, были \_\_\_\_\_.

б) Самая экономически развитая страна Северной Америки - \_\_\_\_\_ .

в) Государственный язык Мексики - \_\_\_\_\_.

**2. Определите, к какой стране материка Северная Америка имеют отношения слова и высказывания:**

«кленовый лист», «XXI Зимние Олимпийские игры», «хоккей с шайбой — спорт номер один», «залив Фанди»: \_\_\_\_\_;

**Задание 5. Расположите указанные географические объекты от самого низкого к самому высокому.** 1) Аппалачи 2) Великие равнины 3) Примексиканская низменность 4) Центральные равнины 5) Скалистые горы

### Северные материки

Часть А. Выбор одного или нескольких правильных вариантов ответа.

#### Задания с множественным выбором (2 балла):

1. Северная Америка размещается в полушариях: А. Северном Б. Южном В. Западном Г. Восточном.
2. Евразия размещается в полушариях: А. Северном Б. Южном В. Западном Г. Восточном.
3. Евразию омывают океаны: А. Тихий. Б. Атлантический. В. Индийский. Г. Северный Ледовитый.
4. Северную Америку омывают океаны: А. Тихий. Б. Атлантический. В. Индийский. Г. Северный Ледовитый.
5. В Евразии размещаются горные системы: А. Альпы. Б. Анды. В. Кордильеры. Г. Тянь-Шань.
6. В Северной Америке размещаются горные системы: А. Аппалачи. Б. Карпаты. В. Гималаи. Г. Кордильеры.

#### Задания с одиночным выбором (1 балл):

7. Самая длинная река Северной Америки: А. Миссури. Б. Колорадо. В. Миссисипи. Г. Юкон.
8. Самая длинная река Евразии: А. Волга. Б. Хуанхэ. В. Меконг. Г. Янцзы.
9. Самое большое по площади пресноводное озеро Северной Америки и мира: А. Большое Медвежье. Б. Верхнее. В. Эри. Г. Гурон.
10. Самое большое по площади озеро Евразии и мира: А. Байкал. Б. Балхаш. В. Ладожское. Г. Каспийское море.
11. В Северной Америке (в дикой природе) не обитает: А. Индюк. Б. Койот. В. Бурый медведь. Г. Лев.
12. В Евразии (в дикой природе) не обитает: А. Слон. Б. Панда. В. Коала. Г. Белый Медведь.

#### Задания на установление соответствий (2 балла).

**13. Пользуясь политической картой, установите соответствие между странами Евразии и их столицами:**

Страны: А. Китай. Б. Франция. В. Япония. Г. Великобритания.

Столицы: 1. Токио. 2. Пекин. 3. Париж. 4. Лондон.

**14. Пользуясь политической картой, установите соответствие между странами Северной Америки и их столицами:**

Страны: А. Канада. Б. США. В. Куба. Г. Никарагуа.

Столицы: 1. Манагуа. 2. Вашингтон. 3. Гавана. 4. Оттава.

**15. Установите соответствие между географическими особенностями и материками, для которых они характерны:**

<b>ГЕОГРАФИЧЕСКИЕ ОСОБЕННОСТИ</b>	<b>МАТЕРИКИ</b>
-----------------------------------	-----------------



3) Калининградская

4) Сахалинская

7. Отметьте правильные высказывания словом «Да», неправильные - словом «Нет».

1	На суше Россия граничит с 14 странами	
2	Территория Арктики поделена на пять секторов: российский, канадский, американский, норвежский и шведский	
3	Декретное время было введено в России в 1917 г.	
4	Михаил Ломоносов первым сформулировал закон географической зональности	
5	Крайняя западная точка России находится в нулевом часовом поясе	

8. Определите соответствие между путешественником и районом, в котором проходила его экспедиция:

а) Камчатка	б) Амур	в) Берингов пролив	г) Берег Тихого океана

1) Иван Москвитин; 2) Семён Дежнёв; 3) Ерофей Хабаров; 4) Владимир Атласов

9. Назовите страны, являющиеся сухопутными соседями России:

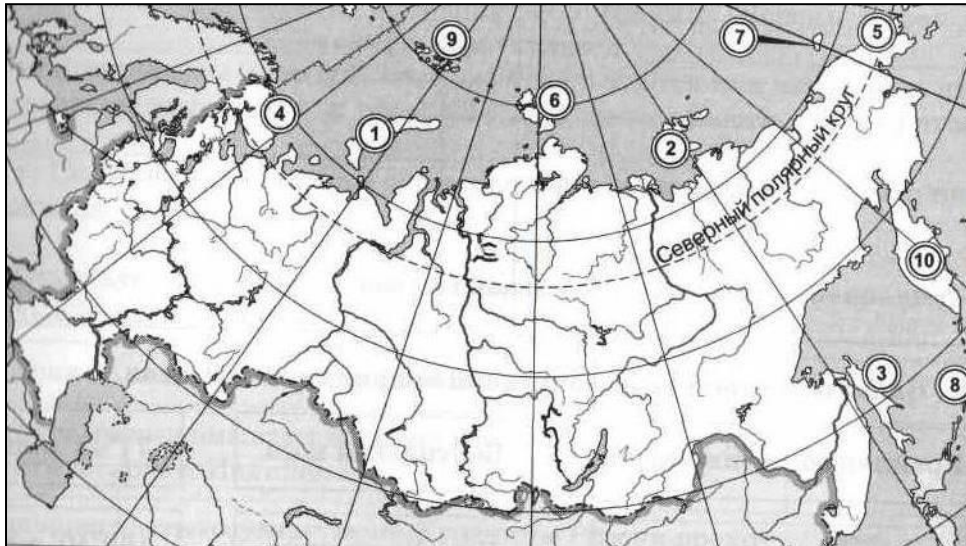
10. Заполните пропуски в предложениях:

1) \_\_\_\_\_ — условная линия на поверхности суши или воды, определяющая размеры территории государства, отделяющая эту территорию от территории других государств и открытых морей. Самую протяжённую сухопутную границу Россия имеет с 2) \_\_\_\_\_, а самую короткую — с 3) \_\_\_\_\_. Компоненты природы, которые используются или могут быть использованы человеком в хозяйственной деятельности, называются 4) \_\_\_\_\_. Свойства окружающей среды, влияющие на жизнь человека, называются 5) \_\_\_\_\_.

11. Как вы думаете:

1	Какое из морей расположено восточнее: Баренцево или Берингово?	
2	Мыс Челюскин находится на полуострове Чукотка или Таймыр?	
3	Кавказские горы тянутся параллельно или перпендикулярно Уральским горам?	
4	Какое из морей расположено южнее: Азовское или Чёрное?	

12 Укажите названия географических объектов, обозначенных цифрами:



- 3. Остров
- 5. Пролив
- 8. Острова
- 9. Острова
- 10. Полуостров

13. Определите, какие особенности географического положения России благоприятны для заселения и освоения территории, для развития хозяйственной деятельности.

1. Занимает большую территорию.
2. На территории России 11 часовых поясов.
3. Значительная часть территории лежит в северных широтах.
4. Разнообразные природные условия.
5. На огромных площадях восточной части страны распространена многолетняя мерзлота.
6. Омывается многими морями.

### **Контрольная работа по теме «История формирования и освоения территории России»**

#### **II вариант**

1. Какая часть территории России находится за Северным полярным кругом?

- 1) 10%      2) 20%      3) 25%      4) 50%

2. В каком полушарии Россия не находится?

- 1) В Северном   2) в Южном   3) в Западном   4) в Восточном

3. Укажите крайнюю северную материковую точку России.

- 1) мыс Дежнева                      2) мыс Флигели  
3) мыс Челюскин                    4) мыс Канин Нос

4. Какой океан не омывает берега России?

- 1) Атлантический                    2) Индийский  
3) Северный Ледовитый            4) Тихий

5. С какой страной СНГ Россия не имеет общей границы?

- 1) С Украиной                        2) с Молдавией

3) с Азербайджаном

4) с Белоруссией

6. Кто из перечисленных людей был участником Великой Северной экспедиции?

- а) Михаил Ломоносов
- б) Витус Беринг
- в) Дмитрий Овцын
- г) Семён Дежнёв
- д) Мария Прончищева
- е) Братья Лаптевы
- ж) Семён Челюскин

з) Владимир Татищев

7. Отметьте правильные высказывания словом «Да», неправильные - словом «Нет».

1	Берега России омывают воды трёх океанов: Тихого, Атлантического и Индийского	
2	Большая часть государственной границы России проходит по морю	
3	Крайняя северная материковая точка России одновременно является крайней северной точкой Евразии	
4	Крайняя западная точка России находится во втором часовом поясе	
5	Границы часовых поясов проходят строго по меридианам	

8. Определите соответствие между событиями и личностями:

Основатель Русского географического общества	<b>1</b>	<b>а</b>	Иван Крузенштерн и Юрий Лисянский
Первая российская кругосветная экспедиция	<b>2</b>	<b>б</b>	Владимир Татищев
Закон географической зональности	<b>3</b>	<b>в</b>	Фердинанд Врангель
Открытие Антарктиды	<b>4</b>	<b>г</b>	Василий Докучаев
Первое географическое описание территории России	<b>5</b>	<b>д</b>	Фаддей Беллинсгаузен и Михаил Лазарев
«Могущество российское прирастать будет Сибирью»	<b>6</b>	<b>е</b>	Михаил Ломоносов

9. Назовите все крайние точки России:

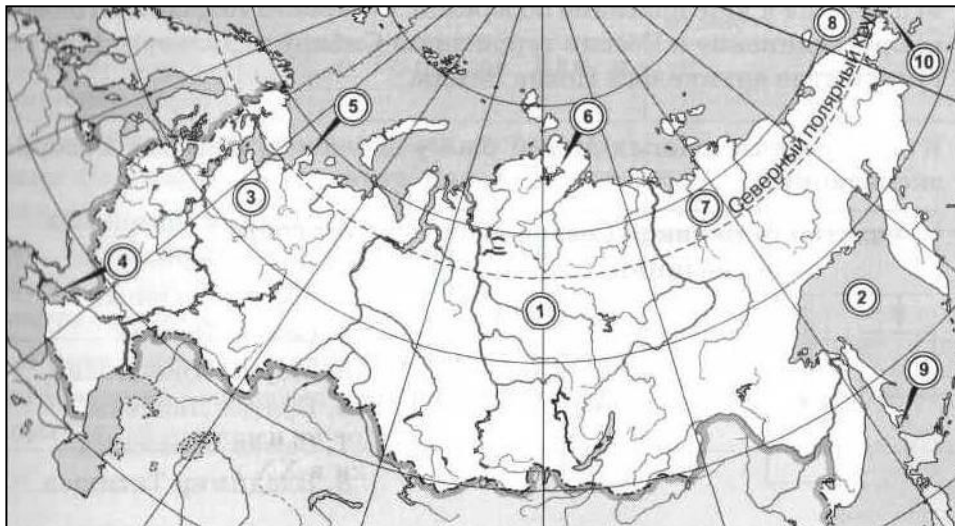
10. Заполните пропуски в предложениях:

Время на меридиане данной местности называется 1) \_\_\_\_\_. Ограниченная двумя меридианами часть земного шара, шириной 15°, в пределах которой время суток одинаково, называется 2) \_\_\_\_\_. В Санкт-Петербурге 4 часа дня, а на Камчатке 3) \_\_\_\_\_. Протяжённость территории России с запада на восток составляет примерно 4) \_\_\_\_\_ км, что в градусной мере примерно соответствует 5) \_\_\_\_\_.

11. Как вы думаете:

1	Где находится мыс Дежнёва: на полуострове Таймыр или на Чукотке?	
2	Какое из морей расположено западнее: Карское или Чукотское?	
3	Какое озеро расположено восточнее — Ладожское или Онежское?	
4	Какие острова расположены севернее Новая Земля или Земля Франца Иосифа	

12. Укажите названия географических объектов, обозначенных цифрами:



1. Река
2. Море
8. Море
9. Пролив
10. Пролив

13. Определите неблагоприятные особенности географического положения России для жизни людей и ведения хозяйства

1. Омывание с разных сторон морями.
2. С севера омывается морями Северного Ледовитого океана.
3. Значительная часть территории лежит на северных широтах.
4. Занимает большую территорию.
5. Протяженность территории с Запада на Восток почти в 3 раза больше, чем с севера на Юг.
6. Разнообразные природные условия и ресурсы.
7. Многолетняя мерзлота.

### Контрольная работа по теме «Географическое пространство России»

#### Вариант 1.

**1. Какова приблизительно площадь территории России?**

- А) 14 млн.км<sup>2</sup>    Б) 20 млн.км<sup>2</sup>    В) 17 млн.км<sup>2</sup>    Г) 23 млн.км<sup>2</sup>

**2. Какое из перечисленных государств имеет сухопутную границу с Россией?**

- А) Финляндия    Б) Болгария    В) Швеция    Г) Турция

**3. Крайняя восточная точка России – это:**

- А) гора Базардюзю    Б) мыс Дежнева    В) Балтийская коса    Г) мыс Челюскин

**4. На границе с каким государством расположена крайняя западная точка России?**

- А) Беларусь    Б) Польша    В) Латвия    Г) Финляндия

**5. Какой из перечисленных субъектов РФ расположен в азиатской части страны?**

- А) республика Коми    Б) республика Адыгея    В) Новосибирская область    Г) Владимирская область

**6. Верны ли следующие утверждения?**

- А) Государственная территория России включает воздушное пространство над ее территориальными водами  
 Б) Территориальные воды России – это полоса вдоль ее берегов, шириной около 370 км.  
 1. Верно только А.    2. Верно только Б.    3. Оба верны.    4. Оба неверны.

**7. Какое из перечисленных государств входит в состав СНГ?**

- А) Финляндия    Б) Китай    В) Литва    Г) Беларусь?

**8. Россия занимает первое место в мире по запасам:**



А) пресной воды    Б) нефти    В) алюминиевых руд    Г) железных руд

**9. Важным результатом экспедиции под командованием С.И. Дежнева стало:**

А) основание первых крепостей-отрогов в Сибири    Б) исследование берегов Антарктиды  
В) открытие островов Шпицберген и Медвежий    Г) открытие пролива между Азией и Америкой

**10. Какое утверждение о географическом положении России верно:**

А) Территория России расположена в двух частях света  
Б) Крайняя западная точка России имеет восточную долготу  
В) Территория России омывается водами четырех океанов  
Г) менее половины территории России относится к зоне Севера

**11. Туристические фирмы разных субъектов РФ разработали рекламные слоганы (рекламные лозунги) для привлечения туристов в свои субъекты. Установите соответствие между слоганом и субъектом РФ**

Слоган

Субъект

1) Побывайте в Западном полушарии	А) Свердловская область
2) Встретить Новый год дважды	Б) Республика Саха (Якутия)
3) Перейди границу между двумя частями света	В) Чукотский автономный округ

**12. Определите время в Омске, если в Санкт-Петербурге 10 часов утра**

**13. Огромные размеры территории России дают нашей стране разнообразные преимущества. Назовите одно из таких преимуществ с точки зрения ученого-эколога.**

**14. Определите субъект РФ по следующему описанию.**

Этот субъект РФ расположен на юге европейской части страны. Он относится к числу государственно-территориальных образований. Имеет выход к морю и граничит с иностранным государством. Административный центр – город-миллионер называют «воротами Кавказа».

### **Контрольная работа по теме «Географическое пространство России»**

#### **Вариант 2.**

**1. Какое место в мире по площади территории занимает Россия?**

А) 1-е место    Б) 2-е место    В) 3-е место    Г) 4-е место

**2. Какое из перечисленных государств имеет морскую границу с Россией?**

А) Великобритания    Б) США    В) Германия    Г) Канада

**3. Какое из перечисленных государств имеет наиболее протяженную сухопутную границу с Россией?**

А) Казахстан    Б) Польша    В) Азербайджан    Г) Украина

**4. На границе с каким государством расположена крайняя южная точка России?**

А) Китай    Б) Азербайджан    В) Казахстан    Г) Монголия

**5. Какой из перечисленных субъектов РФ расположен в европейской части страны?**

А) Новосибирская область    Б) Омская область    В) республика Алтай    Г) республика Карелия

**6. Верны ли следующие утверждения?**

А) государственная территория России включает недра под ее территориальными водами  
Б) исключительная экономическая зона России – это полоса вдоль ее морских берегов шириной около 22 км.

1. Верно только А.    2. Верно только Б.    3. Оба верны.    4. Оба неверны.

**7.Россия занимает первое место в мире по запасам:**

А) каменного угля    Б) нефти    В) природного газа    Г) медной руды

**8. Какое из перечисленных государств входит в состав СНГ?**

А) Латвия    Б) Монголия    В) Китай    Г) Узбекистан

**9.Северный морской путь был впервые пройден за одну навигацию экспедицией:**

А) В.Беринга    Б) В.Баренца    В) С.Дежнева    Г) О.Ю.Шмидта

**10.Какое утверждение о географическом положении России неверно:**

А) Территория России расположена в трех частях света  
Б) Крайняя восточная точка России имеет западную долготу  
В) Территория России омывается водами трех океанов  
Г) более половины территории России относится к зоне Севера

**11. Туристические фирмы разных субъектов РФ разработали рекламные слоганы (рекламные лозунги) для привлечения туристов в свои субъекты. Установите соответствие между слоганом и субъектом РФ.**

Слоган

1) Побывай на крайней северной точке материка  
2) Перейди границу частей света  
3) Перешагни из Западного полушария в Восточное

Субъект

А) Чукотский автономный округ  
Б) Красноярский край  
В) Челябинская область

**12.Определите время в Москве, если в Норильске 13 часов.**

**13. Огромные размеры территории России дают нашей стране разнообразные преимущества, но одновременно порождают проблемы. Укажите проблему, связанную с большими размерами территории страны.**

**14.Определите субъект РФ по следующему описанию.**

Этот субъект РФ расположен в европейской части страны. Он относится к числу государственно-территориальных образований. Не имеет выхода к морю, но граничит с тремя иностранными государствами.

## Природа России Вариант 1

1. Какая эра является самой древней в истории Земли?

1. палеозойская  
2. архейская  
3. мезозойская  
4. кайнозойская

2. Как называется самая высокая точка России?

1. Казбек  
2. Белуха  
3. Эльбрус  
4. Народная

3. Укажите верное утверждение.

1. Рельеф России разнообразен, но преобладают равнины.  
2. В рельефе России преобладают горы.  
3. Горы располагаются в основном на западе страны.  
4. Алтай – самые высокие горы России.

4. Какое полезное ископаемое добывают в кимберлитовых трубках?

1. золото
2. уголь
3. алмазы
4. нефть

5. Большинство крупных рек России текут на север, это говорит о том, что \_\_\_\_\_

---

—

6. К основным климатическим показателям относятся:

1. годовое количество осадков
2. количество тепла
3. увлажнение территории
4. все перечисленное верно

7. В каких широтах расположена большая часть России?

1. в экваториальных
2. в тропических
3. в умеренных
4. в арктических

8. Как называются линии, соединяющие точки с одинаковыми средними температурами воздуха?

1. изобары
2. изотермы
3. изогипсы
4. горизонтали

9. Укажите верное утверждение.

1. «Полюсом холода» России является Оймякон.
2. Самая высокая температура в июле – во Владивостоке.
3. Самая холодная зима – в Мурманске
4. Меньше всего осадков выпадает на Северном Урале

10. Назовите не менее двух признаков теплого атмосферного фронта

---

---

---

11. Какая река не относится к бассейну Северного Ледовитого океана?

1. Лена
2. Северная Двина
3. Печора
4. Нева

12. Какая река является горной?

1. Дон
2. Днепр
3. Волга
4. Терек

13. На какую характеристику реки не влияет климат?

1. режим реки
2. питание реки
3. направление течения реки
4. объём речного стока

14. Кое озеро самое крупное по площади?

1. Байкал
2. Каспийское
3. Ладожское
4. Онежское

15. В какой части России располагается «озерный край»?

1. на Дальнем Востоке
2. в Западной Сибири
3. в Восточной Сибири
4. на северо-западе Русской равнины

16. Кто из ученых является основателем почвоведения?

1. А. Воейков
2. М. Ломоносов
3. В. Докучаев
4. А. Ферсман

17. Какие почвы занимают наибольшую площадь в России?

1. тундрово-глеевые
2. подзолистые
3. черноземы
4. каштановые

18. Какая природная зона представлена сообществом трав?

1. тундра
2. тайга
3. степь
4. пустыня

19. Установите соответствие

Животное	Природная зона	Цифра
1. сайгак	А) тундра	
2. песец	Б) тайга	
3. рысь	В) степь	
4. тюлень	Г) арктическая пустыня	

20. Дайте название растению по описанию. Она светолюбива, переносит многолетнюю мерзлоту, олицетворяет русскую природу, имеет белоснежную кору \_\_\_\_\_

### Природа России

#### Вариант 2

1. Какая геологическая эра началась более 66 млн. лет назад и продолжается сейчас?

1. мезозойская
2. кайнозойская
3. палеозойская
4. протерозойская

2. Где расположена самая низкая точка России?

1. на Урале
2. на берегу Балтийского моря
3. в Крыму
4. на Прикаспийской низменности

3. Укажите неверное утверждение.

1. Рельеф России однообразен, с преобладанием гор.
2. Среднесибирское плоскогорье относят к высоким равнинам
3. На юге и северо-востоке страны располагаются высокие горы
4. Уральские горы располагаются между Восточно-Европейской и Западно-Сибирской равнинами

4. Какое полезное ископаемое добывают на месторождениях Курской магнитной аномалии?

1. нефть
2. газ
3. уголь
4. железную руду

5. Закончите предложение. Совокупность форм земной поверхности называется

\_\_\_\_\_

\_\_\_\_\_

6. Какой климатообразующий фактор является ведущим?

1. направление горных хребтов
2. высота места над уровнем моря
3. влияние деятельности человека
4. циркуляция атмосферы

7. От какого показателя зависит количество суммарной солнечной радиации?

1. географическая широта места
2. состояние атмосферы
3. подстилающая поверхность
4. все перечисленное верно

8. Как называются линии, соединяющие точки с одинаковым количеством осадков?

1. изогеты
2. горизонтали
3. изобары
4. изотермы

9. Укажите верное утверждение.

1. Самое холодное лето в Якутске
2. Самая теплая зима в Сочи
3. Осадки равномерно распределены по территории России
4. Испаряемость – это процесс перехода жидкости в пар

10. Назовите не менее двух признаков холодного атмосферного фронта

\_\_\_\_\_

\_\_\_\_\_

\_\_\_\_\_

11. Какая река относится к бассейну Тихого океана?

1. Енисей
2. Лена
3. Вилюй
4. Амур

12. Какая река является равнинной на всем протяжении?

1. Анадырь
2. Северная Двина
3. Кубань
4. Зея

13. Как называется низкий уровень воды в реке?

1. паводок
2. половодье
3. межень
4. питание

14. Какое озеро самое глубокое?

1. Ильмень
2. Онежское
3. Таймырское
4. Байкал

15. Какая из перечисленных равнин наиболее заболочена?

1. Прикаспийская низменность
2. Среднесибирское плоскогорье
3. Среднерусская возвышенность
4. Западно-Сибирская равнина

16. Какой ученый – климатолог сказал, что «Реки – это продукт климата»?

1. М. Ломоносов
2. В. Докучаев
3. В. Вернадский
4. А. Воейков

17. Какие почвы наиболее плодородны?

1. подзолистые
2. черноземы
3. тундрово-глеевые
4. арктические

18. Какая природная зона занимает наибольшую площадь на территории России?

1. тундра
2. степи
3. тайга
4. широколиственные леса

19. Установите соответствие

Растение	Природная зона	Цифра
1. ковыль	А) тундра	
2. клюква	Б) тайга	
3. сосна	В) степь	
4. саксаул	Г) пустыня	

20. Дайте название растению по описанию. Она занимает наибольшую площадь на территории России, относится к хвойным деревьям, светолюбивая, на зиму сбрасывает хвою

---

### Природно - хозяйственные зоны России

Природные зоны России простираются в направлении

- А) запад - восток
- Б) север - юг
- В) юго-запад - северо-восток

1. Важнейшие климатические факторы, определяющие распространение природных зон

- А) тепло, ветер
- Б) тепло, влага
- В) тепло, атмосферное давление

3. Самый крупный по площади природно-хозяйственный комплекс России

- А) смешанные и широколиственные леса
- Б) лесостепи и степи
- В) тайга

4. Природные зоны в горах подчиняются:

- А) широтной зональности
- Б) высотной поясности
- В) горизонтальной зональности

5. Природная зона островов Северного Ледовитого океана

- А) тундра
- Б) арктические пустыни
- В) тайга

6. Море арктической зоны, где наиболее активно ведется промысел

- А) Балтийское
- Б) Карское
- В) Баренцево

7. Природно-хозяйственная зона, подверженная наибольшему заболачиванию

- А) тайга
- Б) тундра
- В) смешанные и широколиственные леса

8. Редколесье – преобладающий ландшафт зоны

- А) тундры
- Б) лесотундры
- В) арктических пустынь

9. Полярное земледелие характерно для зоны

- А) тундры
- Б) лесотундры
- В) тайги

10. Пихтовые, сосновые, кедровые леса образуют зону

- А) смешанных и широколиственных лесов
- Б) тайги
- В) лесотундры

11. Ярусное распределение животных преобладает в зоне

- А) тайги
- Б) лесотундры
- В) лесостепи

12. Ведущая отрасль этой зоны – лесопромышленное хозяйство

- А) Смешанные и широколиственные леса

Б) лесотундра

В) тайга

13. Форма рельефа, занятая в России зоной смешанных и широколиственных лесов

А) Западно-Сибирская равнина

Б) Восточно-Европейская равнина

В) Среднесибирское плоскогорье

14. Природно-хозяйственная зона России, наиболее измененная деятельностью человека

А) лесотундра

Б) тайга

В) смешанные и широколиственные леса

15. Зона смешанных муссонных лесов занимает

А) Европейский юг России

Б) Западную Сибирь

В) Дальний Восток

16. Природно-хозяйственная зона, характеризующаяся более теплым и сухим климатом

А) смешанные и широколиственные леса

Б) лесостепи

В) тайга

17. В растительности преобладает ковыль на черноземных почвах

А) тайга

Б) смешанные и широколиственные леса

В) степи

18. Полынно-злаковая растительность, чередующаяся с участками голой почвы характерна для зоны

А) лесостепи

Б) полупустыни

В) лесотундры

19. Природно-хозяйственная зона России, занимающая северное побережье Каспийского моря

А) степи

Б) субтропики

В) пустыни

20. Основная курортная зона России

А) субтропики

Б) Влажные муссонные леса

В) смешанные и широколиственные леса



## Численность населения России 1 вариант

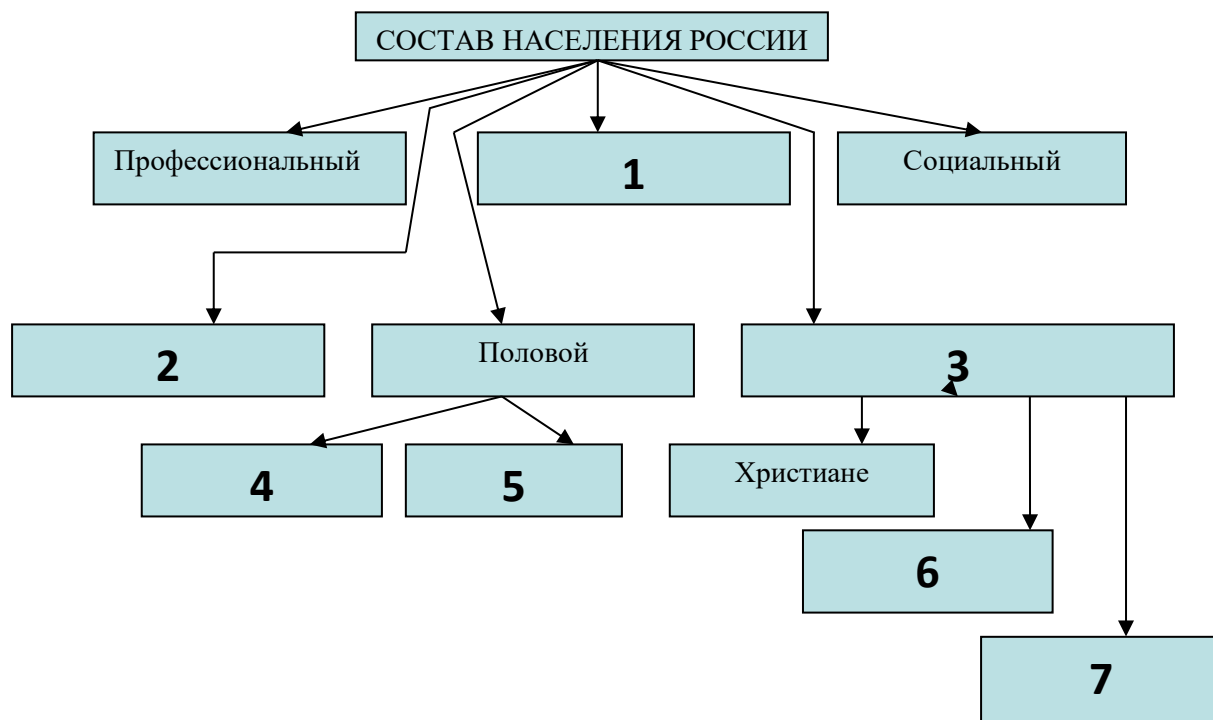
1. Назовите имя учёного, проводившего в 1897 г. первую перепись населения России:  
а) Д.И. Менделеев; б) А.О. Ковалевский; в) П.Л. Чебышев; г) П.П. Семёнов-Тян-Шанский
2. Какое место в мире по численности населения занимает Россия:  
а) 7; б) 8; в) 9; г) 10
3. Что такое естественный прирост населения?  
а) количество новорождённых в течение года  
б) разница между количеством прибывших в страну и покинувших её  
в) разница между родившимися и умершими  
г) общее прибавление населения страны в год
4. При традиционном типе воспроизводства характерны:  
а) высокая нерегулируемая рождаемость и снижение смертности  
б) высокая нерегулируемая рождаемость и низкая продолжительность жизни  
в) регулируемая невысокая рождаемость и снижение смертности  
г) регулируемая невысокая рождаемость и низкая продолжительность жизни
5. К показателям естественного движения населения относится:  
а) рождаемость; в) уровень развития здравоохранения;  
б) миграционная подвижность; г) доля городского населения
6. Назовите основной фактор, влияющий на здоровье человека:  
а) генетический (наследственный); б) образ жизни;  
в) здравоохранение; г) экологический фактор
7. Выберите факторы, влияющие на миграционную подвижность населения:  
а) средняя продолжительность жизни  
б) войны и политические конфликты  
в) уровень рождаемости  
г) положение женщины в обществе
8. В каком возрасте количество мужчин и женщин в России примерно одинаково?  
а) в 24 – 27 лет; б) в 30 – 33 года; в) в 37 – 40 лет; г) в 52 – 56 лет
9. Народ, живущий в европейской части России, исповедующий буддизм:  
а) буряты; б) чуваш; в) калмыки; г) татары
10. Служитель культа у мусульман:  
а) лама; б) муэдзин; в) раввин; г) священник
11. Культовое сооружение у буддистов:  
а) мечеть; б) церковь; в) синагога; г) пагода
12. Какое определение рынка труда соответствует действительности:  
а) набор работников на вновь открывающееся предприятие  
б) соотношение спроса на рабочую силу и её предложения  
в) биржа труда (бюро по трудоустройству)  
г) неработающее трудоспособное население
13. В каком из следующих утверждений содержится информация о миграциях населения России:  
а) На Крайнем Севере России, занимающем 2/3 её территории, проживает лишь 10 млн. чел.  
б) Большинство крупных городов России находится в европейской части страны.  
в) С начала 1990-х годов начался сильный отток населения из регионов Крайнего Севера и Дальнего Востока.  
г) В возрастной структуре населения России возрастает доля лиц старших возрастов, уменьшается доля детей.
14. Подберите пару: понятие – определение  
1) резкое увеличение прироста населения  
2) выезд людей из страны  
3) количество родившихся на 1000 жителей за год  
4) превышение количества рабочих мест над числом желающих работать  
а) трудовые ресурсы  
б) дефицит работников  
в) демографический взрыв  
г) эмиграция  
д) рождаемость

- 5) насильственное переселение людей
- 6) часть населения страны, способного работать в хозяйстве

е) депортация

Ответ: \_\_\_\_\_

15. На основе изученного материала дополните предложенную схему:



1 – \_\_\_\_\_; 2 – \_\_\_\_\_; 3 – \_\_\_\_\_; 4 – \_\_\_\_\_;  
 5 – \_\_\_\_\_; 6 – \_\_\_\_\_; 7 – \_\_\_\_\_

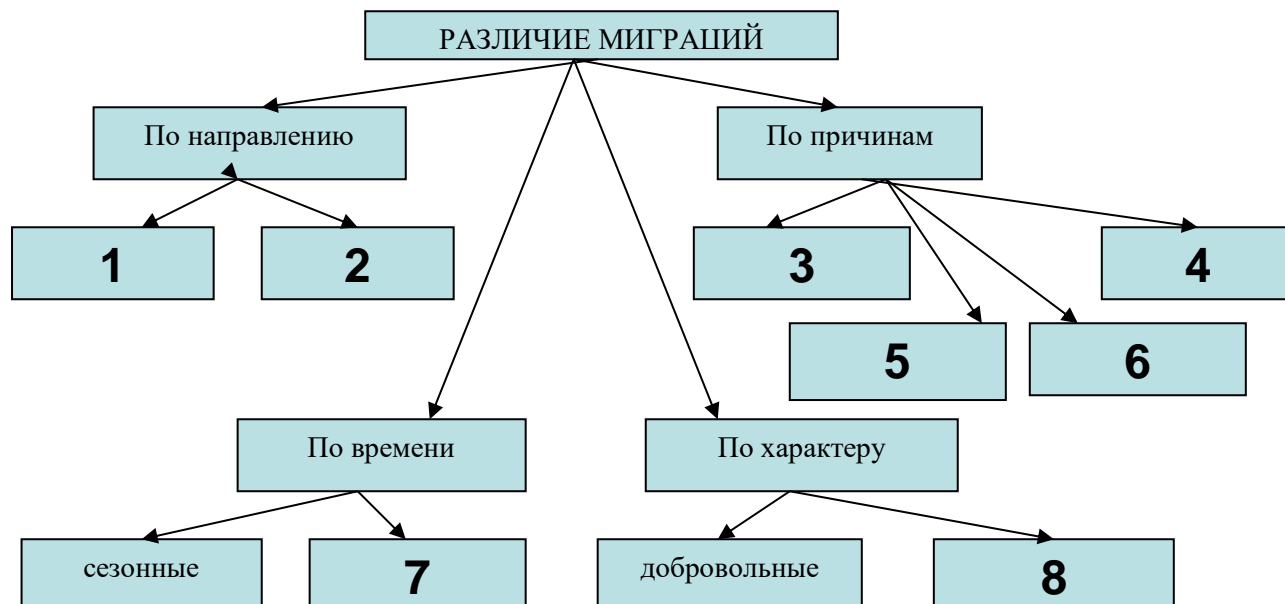
### Численность населения России 2 вариант

1. Какова численность населения России?  
 а) 120 – 125 млн. чел.; б) 140 – 150 млн. чел.; в) 100 – 110 млн. чел.; г) 150 – 170 млн. чел.
2. Когда состоялась последняя перепись населения?  
 а) 1989 г.; б) 1993 г.; в) 2002 г.; г) 2010 г.
3. Естественное движение населения – это:  
 а) миграция;  
 б) эмансипация;  
 в) процесс смены поколений;  
 г) разница между числом родившихся и умерших людей
4. При современном типе воспроизводства характерны:  
 а) высокая нерегулируемая рождаемость и снижение смертности  
 б) высокая нерегулируемая рождаемость и низкая продолжительность жизни  
 в) регулируемая невысокая рождаемость и снижение смертности  
 г) регулируемая невысокая рождаемость и низкая продолжительность жизни

5. Демографический взрыв – это:
- а) резкое увеличение численности населения
  - б) резкое снижение численности населения
  - в) уменьшение численности населения за счёт эмиграции
  - г) увеличение численности населения за счёт внешних миграций
6. Почему в развитых странах люди живут дольше, чем в России?
- а) лучше климатические условия
  - б) природные ландшафты разнообразнее, чем в России
  - в) раньше наступает пенсионный возраст, чем в России
  - г) в моде здоровый образ жизни
7. Какое событие не является причиной демографического кризиса в России?
- а) Первая мировая война
  - б) Великая Отечественная война
  - в) засуха и репрессии 1933 – 1934 г.г.
  - г) цунами 2004 г.
8. Как называется наука о населении:
- а) демография; б) этнография; в) историография; г) томография
9. Народ Кавказа, исповедующий православие:
- а) чеченцы; б) адыгейцы; в) осетины; г) ингуши
10. Культовое сооружение у мусульман:
- а) мечеть; б) церковь; в) синагога; г) пагода
11. Служитель культа у буддистов:
- а) лама; б) муэдзин; в) раввин; г) священник
12. Что такое трудоспособный возраст:
- а) возраст, в котором человек способен к труду
  - б) возраст от времени, когда можно начать работать, до времени, когда можно выйти на пенсию
  - в) возраст, начиная от совершеннолетия и до фактического выхода на пенсию
  - г) возраст от фактического начала трудовой деятельности до её фактического прекращения
13. Примером внутренних миграций населения России является:
- а) отъезд специалистов на стажировку за рубеж
  - б) переезд семей военнослужащих из Забайкалья в Псков
  - в) приезд в Россию русских беженцев из Таджикистана
  - г) возвращение на родину потомков русских эмигрантов
14. Подберите пару: понятие – определение
- |  |                  |
|--|------------------|
| 1) сокращение численности населения в стране   | а) рынок труда   |
| 2) въезд людей в страну  | б) «утечка умов» |
| 3) количество умерших на 1000 жителей за год   | в) депопуляция   |
| 4) превышение числа желающих работать над количеством рабочих мест   | г) смертность    |
| 5) соотношение спроса на рабочую силу и её предложение   | д) безработица   |
| 6) экономическая эмиграция специалистов различного профиля обычно из менее развитых стран в более развитые | е) иммиграция    |

Ответ: \_\_\_\_\_

15. На основе своих знаний дополните предложенную схему:



1 – \_\_\_\_\_; 2 – \_\_\_\_\_; 3 – \_\_\_\_\_; 4 – \_\_\_\_\_;  
 5 – \_\_\_\_\_; 6 – \_\_\_\_\_; 7 – \_\_\_\_\_; 8 – \_\_\_\_\_;

### КОНТРОЛЬНО-ИЗМЕРИТЕЛЬНЫЕ МАТЕРИАЛЫ по географии 9 класс

#### «Топливо – энергетический комплекс»

№	Вопросы для 1 варианта.	№	Вопросы для 2 варианта.
1	В какой сектор отраслей хозяйства России входит топливно- энергетический комплекс? а) в отрасли, деятельность которых связана с эксплуатацией природы; б) в отрасли, перерабатывающие сырье; в) в сферу услуг; г) входит в состав всех отраслей хозяйства.	1	В состав ТЭК входит: а) добыча топлива; б) транспорт топлива и тепла потребителям; в) выработка электроэнергии; г) все выше названные отрасли.
2	ТЭК России развивается: а) целиком опираясь на собственные энергетические ресурсы; б) собственных энергетических ресурсов недостаточно, часть ресурсов в Россию поставляются из других стран; в) недостаток ресурсов возмещается использованием нетрадиционных видов энергии; г) все названные варианты имеют место в развитии ТЭК России.	2	С каким из нижеперечисленных объяснений не согласен ? Развитие ТЭК связано не только с увеличением производства энергии, но и с ее экономией. Энергию надо экономить, т.к.: а) новые месторождения располагаются на малообжитых районах с суровыми природными ресурсами, по этой причине добыча топлива и производство энергии в России становится все более дорогими;

			<p>б) постоянно растут затраты на транспортировку топливных ресурсов;</p> <p>в) рост энергетики оказывает отрицательное влияние на окружающую среду;</p> <p>г) в России энергосберегающие технологии пока не получили должного применения, поэтому об экономии энергии говорить нет необходимости.</p>
3	<p>Какой стране Россия уступает по запасам нефти?</p> <p>а) Индонезии, б) Саудовской Аравии, в) США, г) Ираку.</p>	3	<p>На шельфе каких морей обнаружены большие запасы нефти ?</p> <p>а) Карского, б) Японского, в) Баренцева, г) Охотского, д) Каспия.</p>
4	<p>Основная нефтяная база России – это:</p> <p>а) Волго-Уральская;</p> <p>б) Западно – Сибирская;</p> <p>в) шельфовая часть морей.</p>	4	<p>Какого нефтепровода не существует?</p> <p>а) Альметьевск – Омск – Ангарск</p> <p>б) Альметьевск – С-Петербург – Кириши</p> <p>в) Альметьевск – Екатеринбург – Челябинск.</p>
5	<p>Своеобразный центр нефтепроводной системы страны это</p> <p>а) Сургут б) Альметьевск в) Казань г) Астрахань</p>	5	<p>По добыче какого топливного полезного ископаемого Россия в мире занимает первое место?</p> <p>а) каменного угля, б) природного газа, в) нефти, г) торфа.</p>
6	<p>Установите соответствие месторождений нефти с нефтяными базами:</p> <p>а) Ромашкинское 1) Западно - Сибирская</p> <p>б) Самотлор 2) Волго - Уральская</p>	6	<p>Установите соответствие угольных бассейнов с качеством добываемого угля:</p> <p>а) Канско –Ачинский 1) высокое качество угля</p> <p>б) Кузнецкий 2) низкое качество</p>
7	<p>Какого нефтепровода не существует?</p> <p>а) Альметьевск – Брест;</p> <p>б) Альметьевск – Оренбург – Златоуст;</p> <p>в) Альметьевск – Новороссийск.</p>	7	<p>Установите соответствие месторождений газа с их базами:</p> <p>а) Ямбургское 1) Тимано – Печорская</p> <p>б) Штокмановское 2) Западной Сибири</p> <p>в) шельф Каспия 3) Оренбургско – Астраханская</p>
8	<p>Очень сложный по составу добываемый газ в:</p> <p>а) Западно – Сибирской базе;</p> <p>б) Оренбургско – Астраханской базе;</p> <p>в) Тимано – Печорской базе.</p>	8	<p>Для транспортировки газа к потребителям в России создана единая газопроводная система. Крупнейшие газопроводы страны построены от:</p> <p>а) Сургута и Тюмени;</p> <p>б) Уренгоя и Оренбурга;</p> <p>в) Ставрополя и Новосибирска.</p>
9	<p>Основная часть НПЗ России расположены:</p> <p>а) в местах добычи нефти;</p> <p>б) в крупных городах или в их пригородах;</p>	9	<p>Установить недостатки электростанций с их типами:</p> <p>1) ТЭС а) переработка и хранение радиоактивных отходов</p>

	в) на трассах нефтепроводов.		2) ГЭС      б) долго строится и капиталоемкая 3) АЭС      в) использует невозобновимые ресурсы
10	Уголь добывается только открытым способом на угольном бассейне: а) Печорской      б) Кузнецкий в) Иркутской      г) Канско-Ачинской	10	Уголь добывается только закрытым способом на угольном бассейне: а) Печорском, б) Кузнецком, в) Иркутском, г) Канско – Ачинском.
11	Самую дешевую электроэнергию вырабатывают в: а) ТЭС    б) ГЭС    в) АЭС	11	Больше всего электроэнергии вырабатывается в России: а) ТЭС    б) ГЭС    в) АЭС    г) ПЭС
12	Установить соответствие названий электростанций с их типами: а) Курская, Смоленская, Кольская 1) ТЭС б) Рефтинская, Костромская, Рязанская    2) АЭС	12	Основная добыча угля в России сосредоточено: а) на Урале,      в) на Дальнем Востоке б) в Сибири      в) в европейской части России
13	Какие ГЭС на какой реке созданы? а) Братская      1) на Енисее б) Саяно – Шушенская    2) на Ангаре в) Красноярская	13	Установить соответствие названий электростанций с их типами: а) ТЭС      1) Усть - Илимская б) ГЭС      2) Билибинская в) АЭС      3) Сургутская

**«Металлургический и машиностроительный комплексы».**

**Вариант №1**

**1. В состав металлургического комплекса входят;**

- 1) электроэнергетика и черная металлургия      3) черная металлургия и добыча топлива  
2) черная и цветная металлургия      4) цветная металлургия и транспорт

**2. К черным металлам относятся:**

- 1) свинец    2) цинк    3) алюминий    4) сталь

**3. Для получения металла с заранее заданными свойствами его сплавляют с металлами;**

- 1) легирующими    2) тяжелыми    3) легкими    4) благородными

**4. Самым крупным предприятием металлургической отрасли является;**

- 1) передельный завод    2) комбинат полного цикла    3) прокатный завод    4) глиноземный завод

**5. Работа металлургических комбинатов полного цикла больше всего вредит экологии;**

- 1) рек    2) почв    3) приземного слоя атмосферы    4) лесов

**6. Основной фактор размещения предприятий передельной металлургии;**

- 1) наличие сырья в виде металлолома      3) наличие месторождений каменного угля  
2) наличие сырья железной руды      4) экологический

**7. Старейшая отрасль цветной металлургии в нашей стране;**

- 1) алюминиевая промышленность      3) медная промышленность  
2) оловянная промышленность      4) свинцово-цинковая промышленность

**8. По запасам железной руды Россия занимает ..... место в мире**

- 1) 4      2) 3      3) 2      4) 1

**9. В каком городе России находится крупнейший в России завод по производству никеля?**

- 1) Медногорск      2) Норильск      3) Красноярск      4) Братск

**10. К какой металлургической базе относится центр черной металлургии - Новокузнецк?**

- 1) Сибирская      2) Уральская      3) Южная      4) Центральная

**11. В изобретении какой машины первенство принадлежит России?**

- 1) танк      2) атомный ледокол      3) швейная машинка      4) печатная машинка

**12. Машиностроительные заводы обычно размещают там, где**

- 1) есть сырьевая база      3) есть квалифицированные кадры  
2) есть топливные ресурсы      4) хорошая экология

**13. Почему российские бытовые товары в целом не соответствуют уровню лучших мировых образцов?**

- 1) нехватка сырья      3) отсутствие оборудования  
2) не было подготовки хороших специалистов      4) долгое время производились без конкуренции

**14. Выпуск предприятиями отдельных деталей или готовых изделий - это:**

- 1) кооперирование      2) конверсия      3) специализация      4) интегрирование

**15. Почему развитие ВПК явилось одной из причин экологического кризиса?**

- 1) количество производимого вооружения превышало разумные потребности страны  
2) отрасли ВПК находились в упадке  
3) развитие отраслей ВПК привело к истощению природных ресурсов России  
4) нехватка квалифицированных специалистов для работы на предприятиях отрасли

**16. Какой фактор наиболее важен при размещении предприятий по выпуску горнодобывающего оборудования?**

- 1) ресурсный      2) потребительский      3) военно-стратегический      4) транспортный

**17. Что необходимо учитывать при размещении предприятий ВПК?**

- 1) безопасность размещения      3) комфортность условий  
2) наличие сырьевой базы      4) наличие топливной базы

**18. Самая наукоемкая отрасль машиностроения;**

- 1) судостроение      2) энергетическое машиностроение      3) радиоэлектроника  
4) автомобилестроение

**19. Завод, заводов, пускающий льноуборочные комбайны, расположен в ;**

- 1) Таганрог      2) Рязани      3) Гольяты      4) Твери

**20. Центр управления пилотируемыми космическими полетами находится в :**

- 1) Краснознаменске      2) Королеве      3) Байконуре      4) Плесецке

## «Металлургический и машиностроительный комплексы».

### Вариант №2

**1. В состав металлургического комплекса не входит;**

- 1) добыча руды      2) выплавка металла      3) обогащение руды      4) производство проката

**2. Из всех металлов наибольшее применение в хозяйстве находит;**

- 1) алюминий      2) никель      3) медь      4) железо и его сплавы

**3. К благородным металлам относится;**

- 1) алюминий      2) платина      3) медь      4) ванадий

**4. Крупнейшие центры по выплавке алюминия находятся вблизи;**

- 1) месторождений бокситов      2) месторождений каменного угля      3) крупных ТЭЦ      4) крупных ГЭС

**5. Самая напряженная экологическая ситуация в России наблюдается в городах, где расположены:**

- 1) заводы по выплавке алюминия      3) комбинаты полного цикла  
2) заводы передельной металлургии      4) предприятия малой металлургии

**6. Основной фактор размещения предприятий по производству глинозема:**

- 1) сырьевой      2) транспортный      3) энергетический      4) экологический

**7. Конечным продуктом черной металлургии является производство:**

- 1) чугуна            2) глинозема            3) стали и проката            4) кобальтовых сплавов

**8. Крупнейшее месторождение железной руды в мире:**

- 1) Качканарское            2) КМА            3) гора Магнитная            4) Костомушское

**9. Уникальный центр комплексного использования медно-никелевых руд, а также кобальта, платины и др. редких цветных металлов:**

- 1) Медногорск            2) Красноярск            3) Магнитогорск            4) Норильск

**10. К какой металлургической базе относится центр черной металлургии – Магнитогорск?**

- 1) Сибирская            2) Уральская            3) Южная            4) Центральная

**11. В изобретении какой машины первенство принадлежит России?**

- 1) самолет            2) прядильная машина            3) искусственный спутник Земли            4) колесный трактор

**12. Машиностроительные заводы обычно размещают там, где:**

- 1) налажены связи с потребителями продукции            3) добывают минеральные ресурсы  
2) хорошая экология            4) есть водные ресурсы

**13. Какова главная роль машиностроения?**

- 1) обеспечить население страны собственными автомобилями  
2) облегчить быт населения при помощи электроприборов  
3) обеспечить все сферы хозяйства качественным оборудованием  
4) обеспечить обороноспособность страны

**14. Налаживание производственных связей между машиностроительными предприятиями – это:**

- 1) специализация            2) кооперирование            3) комбинирование            4) конструирование

**15. Какие направления ВПК не являются перспективными?**

- 1) частичный перевод предприятий на выпуск гражданской продукции  
2) подготовка высококлассных специалистов отрасли  
3) разработка новейших образцов вооружения и космической отрасли  
4) увеличение производства обычных средств вооружения

**16. Какой фактор наиболее важен при размещении предприятий по выпуску сельскохозяйственной техники?**

- 1) потребительский            2) ресурсный            3) военно-стратегический            4) транспортный

**17. Что необходимо учитывать при размещении предприятий ВПК?**

- 1) концентрация производства в устьях рек            2) экологические условия  
3) размещение предприятий – дублеров в разных районах страны            4) наличие дешевой энергии

**18. Самая металлоемкая отрасль машиностроения:**

- 1) радиоэлектроника            2) приборостроение            3) автомобилестроение            4) энергетическое машиностроение

**19. Откуда производится запуск пилотируемых космических аппаратов?**

- 1) Плесецк            2) Свободный            3) Байконур            4) Королек

**20. Картофелеуборочные комбайны производят в :**

- 1) Таганроге            2) Архангельске            3) Гольяты            4) Рязани

## Контрольная работа по теме «Инфраструктурный комплекс»

### ВАРИАНТ 1.

#### I. Выполните тест:

1. Самый дорогой вид транспорта?  
а) автомобильный; б) авиационный; в) морской.  
2. Наиболее густая транспортная сеть сформирована в России ...



- а) на западе;                    б) на севере;                    в) на востоке.
3. Главное преимущество автомобильного транспорта?
- а) это сезонный вид транспорта;                    б) он берет много груза;  
в) он перевозит основную массу пассажиров;    г) он мобильный.
4. Главная железнодорожная магистраль России ...
- а) Транссибирская;            б) Байкало-Амурская;        в) Печорская.
5. Самые дешевые перевозки ...
- а) железнодорожные;    б) автомобильные;    в) морские.
6. Погодные условия особенно сильно влияют на работу ...
- а) авиационного транспорта;    б) автомобильного;    в) трубопроводного.
7. Судоходство между портами своей страны называется ...
8. Установите соответствие:

*Порты*

*Грузы*

- |                  |                      |
|------------------|----------------------|
| 1. Новороссийск; | а) химическое сырье; |
| 2. Дудинка;      | б) руды, металл;     |
| 3. Игарка;       | в) лес;              |
| 4. Мурманск.     | г) нефть.            |

**II. Выберите верные высказывания:**

- а) Участок магистрали Москва - Ростов имеет хорошее дорожное покрытие и является платным.  
б) По мере развития наиболее дешевого вида транспорта остальные виды отомрут.  
в) Большая часть рекреационных учреждений размещена в азиатской части страны.  
г) Ситуация с обеспечением жильем своих граждан в России хуже, чем во многих странах нового зарубежья.

**III. Дайте определения следующим понятиям:** грузооборот, пассажирооборот, транспортная система, транспортный узел.

**IV. Дайте характеристику авиационному транспорту по плану:**

1. Особенности данного вида транспорта (грузы, достоинства и недостатки).
2. Доля в грузообороте транспорта.
3. Главные направления магистралей.
4. Проблемы и перспективы.
5. Влияние транспорта на окружающую среду.

**Контрольная работа по теме «Инфраструктурный комплекс»**

**ВАРИАНТ 2.**

**I. Выполните тест:**

1. Самый крупный порт на Балтике ...  
а) Калининград;    б) Выборг;    в) Санкт-Петербург;    г) Мурманск.
2. Первое место в грузообороте принадлежит портам ...  
а) Тихоокеанского бассейна;            б) Балтийского бассейна;  
в) Северного бассейна;                    г) Черноморского бассейна.
3. Северный морской путь начинается от порта ...  
а) Архангельск;            б) Мурманск;            в) Санкт-Петербург.
4. Большую долю флота России составляет ... флот,  
а) ледокольный;    б) рыболовный;    в) пассажирский;    г) наливной.
5. Самый большой объем перевозок грузов имеет порт ...  
а) Мурманск;            б) Санкт-Петербург;    в) Находка;    г) Новороссийск.

6. Основной судоходный речной бассейн России ...
7. Каким видом транспорта дешевле всего перевозить грузы?
- а) морским б) железнодорожным в) автомобильным г) авиационным
8. Среди перечисленных речных портов укажите 2 ошибочных:
- а) Волгоград; б) Москва; в) Якутск;  
 г) Екатеринбург; д) Казань; е) Челябинск;  
 ж) Ростов-на-Дону; з) Красноярск.

## II. Выберите верные высказывания:

- а) Соловецкий монастырь относится к рекреационным районам культурно-исторического направления.
- б) Доля автомобильного транспорта с дизельными двигателями в России в последнее время уменьшается.
- в) Северный морской путь имеет огромное значение для районов Крайнего Севера России. Для иностранных судов он закрыт.
- г) Россия занимает 11-е место в мире по числу пользователей мировой компьютерной сетью Интернет.

**III. Дайте определения следующим понятиям:** грузооборот, пассажирооборот, транспортная система, транспортный узел.

## IV. Дайте характеристику автомобильному транспорту по плану:

1. Особенности данного вида транспорта (грузы, достоинства и недостатки).
2. Доля в грузообороте транспорта.
3. Главные направления магистралей.
4. Проблемы и перспективы.
5. Влияние транспорта на окружающую среду.

## Контрольная работа по теме: «Западный макрорегион (Европейская часть) России»

### Вариант 1



### Задание 1

Подберите, из предложенного списка, верные утверждения для каждого экономического района:

1. Европейский Север

2. Европейский Северо-Запад

3. Центральная Россия

Список утверждений:

1. Самый большой по площади район
  2. Район состоит из 4 областей и города Федерального значения
  3. Главные отрасли специализации района сельское и рекреационное хозяйство
  4. Главным фактором развития района является крупнейшая река европейской России
  5. На территории района находится крупная база Северного морского флота России
  6. Территория данного экономического района стала «собирательницей российских земель»
  7. Самый маленький по площади экономический район
  8. На 3% территории проживает 30% населения
  9. Один из городов района в 2014 году превратился в спортивный центр мира
  10. Самый многонациональный район в России
  11. На территории проживают приверженцы трёх мировых религий: православие, буддизм, ислам
  12. Главным фактом развития района являются самые протяжённые горы в России
  13. «Автомобильный цех» России
  14. По территории района проходит граница между Европой и Азией
  15. В данном экономическом районе самая низкая плотность населения
- (15 баллов, 1 б. – за каждый правильный ответ)

**Задание 2**

Приведи соответствие: субъект – центр

- |                         |                 |
|-------------------------|-----------------|
| 1. Республика Коми      | а. Петрозаводск |
| 2. Ненецкий авт. округ  | б. Саранск      |
| 3. Республика Калмыкия  | в. Йошкар-Ола   |
| 4. Свердловская обл.    | г. Нарьян-Мар   |
| 5. Республика Карелия   | д. Элиста       |
| 6. Республика Мордовия  | е. Майкоп       |
| 7. Республика Татарстан | ж. Екатеринбург |
| 8. Республика Марий Эл  | з. Сыктывкар    |
| 9. Республика Адыгея    | к. Казань       |
| 10. Республика Удмуртия | л. Ижевск       |

(10 баллов, 1 б. – за каждый правильный ответ)

**Задание 3**

Прочитайте внимательно текст. Обратите внимание на выделенные слова текста.

*Климат данного района достаточно суровый, с высокой заболоченностью. На северо-востоке протекает **река**, давшая название крупному **топливному бассейну**. В районе расположены два крупных морских порта. **Первый** специализируется на экспорте леса. **Второй порт** является крупной базой военного флота, базой атомных подводных лодок России. В районе находятся невысокие **горы**, где А. Ферсман обнаружил огромные запасы ценного **сырья** для химической промышленности. В одном из субъектов района находится знаменитый **водный объект** России. В названии **центра** данного субъекта есть имя известного и очень популярного в народе царя на Руси. Самая благоприятная для развития **сельского хозяйства** область находится на юге района. На ее территории находится **город** – родина российского Деда Мороза. На севере экономического района **коренные жители** занимаются оленеводством.*

Ответьте на вопросы по тексту:

1. Определите название реки, протекающей по экономическому району
  2. Определите название топливного бассейна
  3. Запишите название первого порта
  4. Запишите название второго порта
  5. Запишите название гор
  6. Запишите название сырья, которое обнаружил А.Ферсман в горах
  7. Запишите название водного объекта и субъекта, в котором он расположен
  8. Как называется город, названный в честь русского царя
  9. В каком субъекте района самые благоприятные для развития с/х условия
  10. Запишите название города – родины Деда Мороза
  11. Запишите название коренного народа, занимающегося оленеводством, и субъекта, в котором они проживают
  12. Определите название экономического района, описываемого в тексте
- (12 баллов, 1 б. – за каждый правильный ответ)

### Контрольная работа по теме: «Западный макрорегион (Европейская часть) России»

#### Вариант 2



#### Задание 1

Подберите, из предложенного списка, верные утверждения для каждого экономического района:

1. *Европейский Север*
2. *Европейский Северо-Запад*
3. *Центральная Россия*
  
4. *Европейский Юг*
5. *Поволжье*
6. *Урал*

Список утверждений:

1. В районе самый низкий уровень урбанизации
2. Главные отрасли специализации района черная и цветная металлургия
3. Главным фактором развития района является крупнейшая река европейской России
4. На территории района находится крупная база по ремонту и производству атомных подводных лодок
5. В районе 1 область, 2 края и 7 республик
6. В районе находится крупнейший мегаполис страны
7. Самый маленький по площади экономический район
8. Самый густонаселённый экономический район России
9. В районе находится крайняя южная точка России
10. В данном районе находятся древние города Псков и Великий Новгород
11. В районе находится крайняя западная точка России
12. Главным фактом развития района являются самые протяжённые горы в России
13. «Автомобильный цех» России
14. Район расположен на водоразделе Волги и Оби
15. В данном экономическом районе самая низкая плотность населения

(15 баллов, 1 б. – за каждый правильный ответ)

**Задание 2**

Приведи соответствие: субъект – центр

- |                            |                    |
|----------------------------|--------------------|
| 1. Республика Чечня        | а. Петрозаводск    |
| 2. Ленинградская обл.      | б. Чебоксары       |
| 3. Республика Калмыкия     | в. Йошкар-Ола      |
| 4. Республика Дагестан     | г. Санкт-Петербург |
| 5. Республика Карелия      | д. Элиста          |
| 6. Республика Чувашия      | е. Майкоп          |
| 7. Республика Башкортостан | ж. Махачкала       |
| 8. Республика Марий Эл     | з. Грозный         |
| 9. Республика Адыгея       | к. Уфа             |
| 10. Республика Удмуртия    | л. Ижевск          |

(10 баллов, 1 б. – за каждый правильный ответ)

**Задание 3**

Прочитайте внимательно текст. Обратите внимание на выделенные слова текста.

*Климат данного района разнообразен и меняется от избыточного на севере к скудному увлажнению на юге. Вся хозяйственная жизнь связана с **рекой**, в бассейне которой находится район. На севере района находится **республика**, которая славится своими богатыми историческим и культурными традициями. Большинство населения данной республики исповедуют*

самую молодую из **мировых религий**. На юге находится **республика**, население которой исповедует такую же **религию**, как и один из соседей России в Азии. Район **специализируется** на производстве очень распространенной в стране продукции. В районе хорошо развита электроэнергетика, здесь находится самая **мощная электростанция** в России. В одном из субъектов района находится знаменитый **заповедник** по охране водно-болотных угодий **дельты** крупной реки. Центр данного субъекта является **городом-героем**.

Ответьте на вопросы по тексту:

1. Определите название реки, протекающей по экономическому району
  2. Какая республика находится на севере района
  3. Какую религию исповедуют большинство жителей республики на севере района
  4. Запишите название республики на юге района
  5. Какую религию исповедуют большинство жителей республики на юге района
  6. Запишите отрасль специализации района
  7. Какие типы электростанций преобладают в районе
  8. Запишите тип и название самой мощной электростанции в районе
  9. О каком заповеднике идёт речь в тексте
  10. В дельте, каких рек находится данный заповедник
  11. О каком городе-герое идет речь в тексте
  12. Определите название экономического района, описываемого в тексте
- (12 баллов, 1 б. – за каждый правильный ответ)

### Контрольная работа по теме

#### «Восточный макрорегион (Азиатская часть)»

#### I. Выберите один правильный ответ.

##### 1. Укажите города-миллионеры Западно-Сибирского района.

- |                        |                          |
|------------------------|--------------------------|
| а) Тюмень, Томск       | в) Новосибирск, Омск     |
| б) Новосибирск, Сургут | г) Кемерово, Новокузнецк |

##### 2. Какой субъект РФ не входит в состав Западно-Сибирского района?

- |                        |                       |
|------------------------|-----------------------|
| а) Республика Алтай    | в) Тюменская область  |
| б) Кемеровская область | г) Курганская область |

##### 3. Какие народы проживают на территории Западно-Сибирского района?

- |                  |                      |
|------------------|----------------------|
| а) ханты, манси  | в) коряки, нганасаны |
| б) тувинцы, энцы | г) якуты, ненцы      |

##### 4. Укажите город — центр газодобычи на севере Западной Сибири.

- |            |                  |
|------------|------------------|
| а) Сургут  | в) Новый Уренгой |
| б) Северск | г) Ноябрьск      |

##### 5. Какой субъект, входящий в Восточно-Сибирский район, занимает самую большую площадь?

- |                       |                       |
|-----------------------|-----------------------|
| а) Забайкальский край | в) Иркутская область  |
| б) Красноярский край  | г) Республика Бурятия |

##### 6. Какие формы рельефа преобладают на территории Восточно-Сибирского района?

- |                      |                               |
|----------------------|-------------------------------|
| а) горы, низменности | в) плоскогорья, возвышенности |
| б) горы, плоскогорья | г) низменности, возвышенности |

##### 7. Укажите крупнейшие центры производства алюминия в России.



1. Республика расположена в Азиатской части страны. На юге граница совпадает с Государственной границей Российской Федерации. Республика богата полезными ископаемыми: здесь имеются крупные залежи свинцово-цинковых, молибденовых, вольфрамовых, урановых руд, а также месторождения угля и многих других полезных ископаемых. На территории Республики находится около 60% береговой линии самого глубокого пресноводного озера в мире.
2. Этот край, находящийся в азиатской части страны, имеет приморское положение. Он граничит с самой большой по численности населения страной в мире. Административный центр расположен на берегу одной из самых протяженных рек России. Одной из ведущих отраслей хозяйства является лесная и деревообрабатывающая промышленность.
3. Большая часть территории этой области находится в зоне тайги. Особенностью её ЭГП является положение на основных транспортных магистралях, соединяющих европейскую часть страны и Западную Сибирь с дальневосточными районами России. Основу хозяйства составляют несколько крупных ГЭС, рядом с которыми построены крупные алюминиевые комбинаты и лесопромышленные комплексы.
4. На территории этого автономного округа находится одна из крайних точек России. Он омывается водами морей, относящихся к бассейнам двух океанов. Средняя плотность населения здесь ниже средне-российского показателя. Коренное население, относящееся к малочисленным народам Севера, занимается оленеводством, промыслом рыбы и морского зверя. В последние годы экономика региона стала активно развиваться.
5. Эта область расположена на побережье одного из морей, омывающих территорию России с востока. Характерной особенностью природы является широкое распространение многолетней мерзлоты. К неблагоприятным особенностям ЭГП можно отнести отсутствие железнодорожного сообщения с соседними регионами страны.